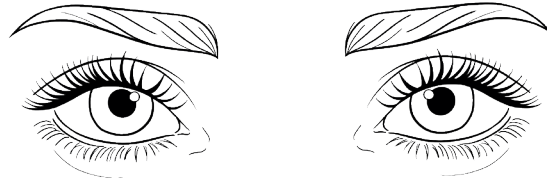


Rozwiąż zagadki by poznać nazwę instrumentu i region jego pochodzenia. Następnie uzupełnij kartę pracy. 




T=R

+



+



P=B ... W=S

~~0...~~

--	--	--	--	--	--	--	--	--	--

Region pochodzenia:

B Z A K Y S U

Rozwiąż zagadki by poznać nazwę instrumentu i region jego pochodzenia. Następnie uzupełnij kartę pracy. 


~~PEŃ~~
Z=IAB
~~POŁ~~
A=IE
NIA=PCE


--	--	--	--	--	--	--	--	--	--	--

--	--	--	--	--	--	--	--	--	--

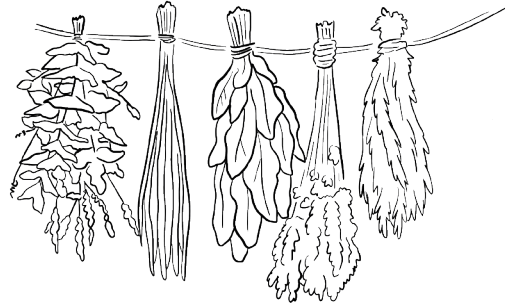
Region pochodzenia:

K B S U Y Z A


Rozwiąż zagadki by poznać nazwę instrumentu i region jego pochodzenia. Następnie uzupełnij kartę pracy.



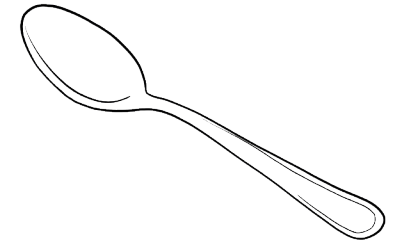
+



+



+



...~~Ń~~

...~~A~~

W=B ... ~~NEK~~

...~~ŻKA~~

--	--	--	--	--	--

--	--	--	--	--

Region pochodzenia:

K O P E A L K I W L O S